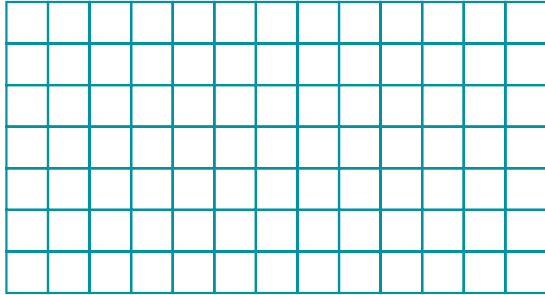


Des rectangles à l'aide


Nom : _____

Détermine les produits ci-dessous à l'aide des rectangles.
Laisse des traces de tes calculs.

$$7 \times 13$$



$$7 \times 23$$




$$7 \times 28$$



$$7 \times 128$$



$$7 \times 300$$



$$7 \times 328$$

